

# 検 定 問 題

## [実施級・3級]

問題冊子は持ち帰ることができます

### ～注 意 事 項～

受 検 番 号									
0	0	0	0	0	0	0	0	0	0
1	1	1	1	1	1	1	1	1	1
2	2	2	2	2	2	2	2	2	2
3	3	3	3	3	3	3	3	3	3

受検番号は10ケタの数字を正しく記入・マークしてください。  
「0」と「1」のマークミスにご注意ください。

- ① 検定監督者から開始の合図があるまで、問題冊子を開かないでください。
- ② 検定時間は開始の合図から50分間です。時間が余っても途中退出はできません。
- ③ 問題は45問、答えはすべて四肢択一式です。設問の答えとして適切なものを一つ選び、解答用紙の番号を塗りつぶしてください。筆記用具は HB か B の黒鉛筆・シャープペンシル、消しゴムをお使いください。
- ④ 問題冊子が解答用紙に落丁・乱丁・印刷不鮮明などがある時は手を挙げてください。
- ⑤ 携帯電話などの電子機器は必ず電源を切ってください。時計がわりに使うことも禁止します。
- ⑥ 不正行為をした場合や、他の受検者に迷惑をかける行為があった場合は、答案は無効となります。
- ⑦ 結果通知は2019年12月中旬ごろまでに、受検者全員に（受検申し込み時に記載の住所に）送付します。合格者には合格証書をお送りします。期日までに通知が届かない場合は、2020年1月下旬までに協会事務局(03-5209-0553、平日10～17時)までお問い合わせください。
- ⑧ 検定問題の内容などに関するご質問には一切お答えできません。検定問題中の表記は人名・国名などを含め、ニュース検定の2019年度版「公式テキスト&問題集 基礎編」に準拠しています。今回の検定は2019年10月下旬までのニュース・情報に基づいています。

主催：NPO 法人 日本ニュース時事能力検定協会ほか



**問 1** 天皇陛下が即位されたことを国内外に宣言する「即位礼正殿の儀」が2019年10月22日、皇居で開かれました。この儀式は、天皇の【 A 】として催されました。【 A 】について日本国憲法は「内閣の助言と承認に基づく」と定めていて、代表例は【 B 】です。【 A 】(2カ所)、【 B 】に当てはまる言葉の正しい組み合わせを、①～④から一つ選びなさい。



「即位礼正殿の儀」で「高御座」に立ち、即位を宣言される天皇陛下(手前)と、「御帳台」に立たれる皇后雅子さま(奥)

- ① A－国事行為                      B－国会の召集
- ② A－国事行為                      B－憲法改正の承認
- ③ A－私的活動                      B－国会の召集
- ④ A－私的活動                      B－憲法改正の承認

**問 2** 大阪府で2019年6月、【            】が開かれました。これは世界の国々のトップらが世界経済などについて話し合う場で、日本では初めて開かれました。【            】に当てはまる言葉を次から一つ選びなさい。

- ① 主要7カ国(G7)の首脳会議(サミット)
- ② 主要20カ国・地域(G20)のサミット
- ③ 国際連合(国連)の総会
- ④ 国際博覧会(万博)



【            】の特別イベントに出席した(前列左から)アメリカのトランプ大統領、日本の安倍晋三内閣総理大臣、中国の習近平国家主席=2019年6月

**問 3** 参議院議員選挙（参院選）の制度や仕組みが、2019年から変わりました。変更内容の例として正しいものを、次から一つ選びなさい。

- ① 立候補できる年齢が引き下げられた。
- ② 当選者が男女同数になった。
- ③ 議員定数が増えた。
- ④ 議員の任期が長くなった。

**問 4** 国政選挙の「1票の格差」が日本国憲法に反しているかどうか、選挙のたびに裁判で争われています。「1票の格差」は主に憲法のどのような規定に照らして問題になってきましたか。正しいものを次から一つ選びなさい。

- ① 法の下<sup>もと</sup>の平等
- ② 表現の自由
- ③ 職業選択の自由
- ④ 勤労の権利と義務

**問 5** 安倍晋三さんは通算で7年以上、内閣総理大臣（首相）を務めています。2019年8月24日には、在職日数が大祖父の佐藤栄作さん（2798日）を抜いて戦後最長となりました。日本の首相について正しい説明を、次から一つ選びなさい。

- ① 首相になるには、現職の国会議員である必要がある。
- ② 国会の最高責任者でもある。
- ③ いつでも好きな時に、参議院の解散を決めることができる。
- ④ 首相が所属する政党は「野党」と呼ばれる。

**問 6** 日本国憲法の内容として正しいものを、次から一つ選びなさい。

- ① 参議院議員を「都道府県の代表」と定めている。
- ② 自衛隊の存在を明記した条文はない。
- ③ 「憲法を尊重して守る義務が全国民にある」と定めている。
- ④ 「環境権」を明記している。

**問 7** 現在の日本の皇室制度に関連して、正しい説明を次から一つ選びなさい。

- ① 皇位を継承できるのは男性皇族に限られている。
- ② 皇位継承資格のある皇族は増えている。
- ③ 男性だけでなく女性も天皇になることができる。
- ④ 女性皇族は結婚後も必ず皇室に残ることになっている。

**問8** 日本の立場では、北方領土は昔からずっと日本の領土です。しかし、ある戦争が終わって以降、ロシアが事実上、支配しています。何という戦争以降ですか。正しいものを次から一つ選びなさい。

- ① イラク戦争                      ② 湾岸戦争                      ③ 朝鮮戦争                      ④ 第二次世界大戦

**問9** アメリカ軍（米軍）<sup>ふてんま</sup>普天間飛行場（<sup>ぎのわん</sup>沖縄県宜野湾市）の「移設問題」とは、どのような問題ですか。正しい説明を次から一つ選びなさい。

- ① 普天間の土を利用して、どこの海を埋め立てるかという問題だ。  
② 普天間の土地をアメリカが日本へ返す際、代替りの基地をどこに造るかという問題だ。  
③ 普天間の歴史的な建物をどこへ移して保存するかという問題だ。  
④ 普天間の部隊が他の場所へ行った後、この跡地を何に利用するかという問題だ。

**問10** 統一地方選挙（統一選）について、正しい説明を次から一つ選びなさい。

- ① 都道府県の知事・議員、市区町村の首長・議員を選び直す選挙を4年に1回、できるだけまとめて実施することだ。  
② 回を重ねるごとに、実施される選挙の数が増えている。  
③ 投票せずに当選者が決まる「無投票」は近年、ほとんどなくなった。  
④ 有権者の関心が高まらず、事務経費にムダが生まれがちなので、廃止されることが決まった。

**問11** 地方自治体の主な収入のうち、【        】は住民や地元企業から集め、自治体は自由に使えます。【        】に当てはまる言葉を次から一つ選びなさい。

- ① 地方債                      ② 国庫支出金                      ③ 地方税                      ④ 地方交付税

**問12** 【 A 】から抜け出すため、日本銀行（日銀）は【 B 】が毎年2%のペースで上がる状態を目指してきました。【 A 】【 B 】に当てはまる言葉の正しい組み合わせを、次から一つ選びなさい。

- ① A－インフレ                      B－失業率  
② A－インフレ                      B－物価  
③ A－デフレ                      B－物価  
④ A－デフレ                      B－失業率

\*インフレはインフレーション、デフレはデフレーションの略語です。

- 問13** 次の囲みは、高校生マイさんのある日の日記です。マイさんがこの日に支払ったお金のうち、消費税はいくらですか。日記に基づいて、①～④から一つ選びなさい。おつりや各種割引、キャッシュレス決済によるポイント還元などは考えないこととします。

2019年11月4日（月） 晴れ

歩いてショッピングモールへ出かけた。

まずは雑貨店へ行き、ボールペンを2本買った。合計で220円（消費税含む、以下同じ）だった。

休憩のためにカフェへ行き、タピオカミルクティーを注文。「店内で飲食する」と店員に伝え、770円を支払った。

書店をぶらぶら。マンガ雑誌を330円で買った。

天気良かったので、昼食は近所の公園で食べることにした。フードコート内のハンバーガー店へ行って、ハンバーガーとコーラを648円で買い、テークアウトした。

昼食後はショッピングモールへ戻り、母に頼まれていたパンと野菜を買った。合計で1080円だった。

徒歩で帰宅。午後4時を過ぎていた。

- ① 280円                      ② 260円                      ③ 248円                      ④ 224円

- 問14** 日本の国内総生産（GDP）のうち、約6割と最も多くの割合を占めている項目は何ですか。正しいものを次から一つ選びなさい。

- ① 個人が商品やサービスを買うために使った総額  
② 企業が工場や機械の新設・増設のために使った総額  
③ 国や地方自治体が公共事業をするために使った総額  
④ 日本から外国に輸出した商品やサービスの総額

- 問15** 日本を訪れる外国人（訪日外国人）を【 A 】と呼ぶことがあります。日本政府は2020年までに、【 A 】を「年【 B 】万人」に増やす目標を掲げています。【 A 】（2カ所）、【 B 】に当てはまる言葉と数字の正しい組み合わせを、次から一つ選びなさい。

- ① A－アウトバウンド      B－2000                      ② A－アウトバウンド      B－4000  
③ A－インバウンド        B－2000                      ④ A－インバウンド        B－4000

- 問16** 政府は【            】の輸出額を2019年に1兆円にする目標を掲げています。【            】に当てはまる言葉を、次から一つ選びなさい。

- ① 原油                              ② 農林水産物                      ③ 衣料品                              ④ 医薬品

**問17** 「円安が進むと、日本にとって輸出が有利になる」と言われてきましたが、近年は円安でも輸出の量が伸びないことがあります。その理由の例に当てはまるものを、次から一つ選びなさい。

- ① 円安が続くと、輸出するほど多くのものをつくれないう企業が増えるから。
- ② 日本からの輸出を国が制限しているから。
- ③ 日本の輸出企業は、円高だった時代に相次いで工場を海外に移したから。
- ④ 日本製品の不買運動が世界中に広がったから。

**問18** 日本では一般に、原子力発電所（原発）の使用済み核燃料を再処理した後に出る廃液が「核のごみ」と呼ばれます。これについて、正しい説明を次から一つ選びなさい。

- ① 原子力発電の燃料として再利用できる。
- ② 政府は核のごみを最終的に地下に埋める方針だ。
- ③ 核のごみを捨てる「最終処分場」の建設工事が始まった。
- ④ 核のごみの持つ放射能が安全なレベルに下がるまで、約10年かかるとされる。

**問19** バイオマス発電について、正しい説明を次から一つ選びなさい。

- ① 火山活動が生み出す熱を使って発電する。
- ② 生ごみや動物のふんなどを使って発電する。
- ③ 夜間や天候が悪い時は発電できない。
- ④ 発電時に出る大きな騒音が問題になっている。

**問20** 次のA～Cは、コンビニエンスストア（コンビニ）に関する最近のニュースです。これらには、ある共通したことがらが背景にあります。それは何ですか。最も適切なものを①～④から一つ選びなさい。

A：営業時間を短縮して夜間は閉店する「時短営業」の実験が各地で実施されている。

B：店員ではなく客自身が会計をする「セルフレジ」の導入が進められている。

C：外国人店員がますます増えていて、主要4社では合計で5万人を超えている。

- ① 日本人の平均寿命が延びている。
- ② 日本の総人口が減っている。
- ③ 観光で日本を訪れる外国人が増えている。
- ④ 「キャッシュレス決済」が普及しつつある。

★高校生のアヤさんと、姉で大学生のカナさんが2019年10月に交わした次の会話を読んで、問21、22に答えなさい。

アヤ アルバイトの時給が今月から、これまでより10円上がったんだよ。

カナ それはよかった！ 最低賃金が引き上げられたからだね。

アヤ どういうこと？

カナ 最低賃金は、雇い主が労働者に払わなくてはならない最低限の時給のことだよ。これに満たない賃金で人を雇うことは<sup>(ア)</sup>法律で禁止されているの。正社員だけでなく、アルバイトにも適用されるんだ。ここ数年は毎年、引き上げられていて、東京都と神奈川県では2019年度、初めて時給【 】円を超えたんだよ。

アヤ そうなんだ。でも、隣の県から通ってくる私のクラスメートは、自宅の近所でアルバイトをしていて、時給が私より大幅に安いよ。クラスメートの勤め先は、法律に違反しているのかな？

カナ その可能性は低いかな。最低賃金は都道府県ごとに定められるんだ。だから、同じ仕事でも、得られる給料が地域によって違う、ということもあるんだよ。

アヤ それはそれで不公平な気がするなあ。

**問21** 下線部(ア)に関連して、日本の法律は国会で作られます。国会について誤っている説明を、次から一つ選びなさい。

- ① 議員の定数は、衆議院のほうが参議院よりも多い。
- ② 予算案の審議は、衆議院から始める決まりになっている。
- ③ 国会が定めた法律が日本国憲法に反する場合、その法律は効き目を持たない。
- ④ 衆参各議院で総議員の過半数が賛成すれば、国会が日本国憲法を改正できる。

**問22** 会話文中の【 】に当てはまる数字を、次から一つ選びなさい。

- ① 800
- ② 1000
- ③ 1200
- ④ 1500

**問23** 成人年齢が「18歳」に引き下げられると、18、19歳の人たちは新たに【 】ようになります。【 】に当てはまる文言を、次から一つ選びなさい。

- ① 酒を飲める
- ② 普通自動車の免許を取れる
- ③ たばこを吸える
- ④ 親の同意なしでローンなどの契約を結べる



**問24** 「合計特殊出生率」とはどのような数とされていますか。正しいものを次から一つ選びなさい。

- ① 20歳代までに出生する女性の割合
- ② 生まれてくる赤ちゃんのうち、女の子の割合
- ③ 1人の女性が一生に産む子どもの数
- ④ 1時間当たりの平均出生数

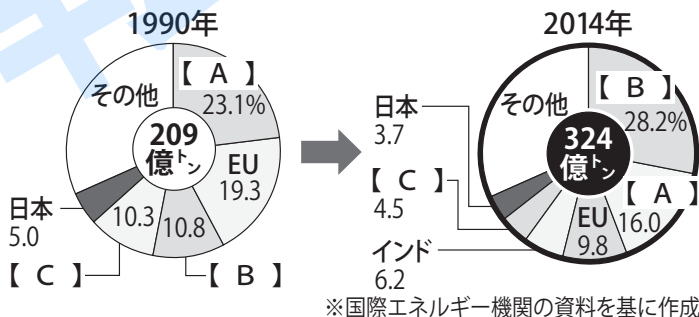
**問25** 国の「社会保険」は、民間の保険会社による保険サービスと比べて、どのような特徴がありますか。正しい説明を次から一つ選びなさい。

- ① 加入者が納める保険料だけで運営される。
- ② 国や地方自治体もお金を出している。
- ③ 税金は一切使われていない。
- ④ 個人は加入できない。

**問26** 日本の介護保険制度について、正しい説明を次から一つ選びなさい。

- ① 原則65歳以上の人サービスを利用できる。
- ② 所得にかかわらず、利用者の自己負担の割合は一律だ。
- ③ 保険料を払うのは60歳以上の人だ。
- ④ 払う保険料は「要介護度」に応じて異なる。

**問27** 次のグラフは、二酸化炭素の国別排出量の変化を示したものです。グラフ中の【 A 】～【 C 】のうち、【 A 】【 B 】に当てはまる国名の正しい組み合わせを、右下の説明文も手がかりに①～④から一つ選びなさい。



A : 「パリ協定」からの離脱を表明している。  
 B : 「京都議定書」には参加していない。

- ① A－中国                      B－ロシア
- ② A－中国                      B－アメリカ
- ③ A－アメリカ                B－ロシア
- ④ A－アメリカ                B－中国

★2019年6月に書かれた次の文章を読んで、問28～31に答えなさい。

「ハンセン病」という病気を聞いたことがありますか？ ハンセン病は、らい菌という細菌によって皮膚や筋肉がおかされる病気です。治療が遅れると手足の知覚がまひしたり、変形したりすることがあります。ただし、らい菌の感染力は極めて弱く、遺伝する病気でもありません。今では薬の開発により、完治します。

しかし、かつては原因も治療法もわからず「不治の病」とされ、恐ろしい伝染病や遺伝病だと誤解されていました。このため日本では、患者を療養所に収容し、一生出られなくする「隔離政策」が、明治時代から実施されてきました。

こうした隔離政策は、「ハンセン病は恐ろしい病気だ」という偏見を助長しました。第二次世界大戦の前後には「無らい県運動」が全国で展開されました。患者をしらみつぶしに探し出して療養所に収容するもので、国だけでなく市民も参加しました。患者はもちろんその家族も、進学や就職、結婚などで厳しい<sup>(ア)</sup>差別を受け、苦しみました。差別を恐れ、家族である患者の存在を世間に隠した人も、少なからずいました。

<sup>(イ)</sup>国際連合（国連）の専門機関の一つである世界保健機関（WHO）は1960年、ハンセン病患者の隔離を否定しました。それにもかかわらず、日本では隔離政策が維持され、1996年に「らい予防法」が廃止されるまで続きました。

国は2001年、元患者本人に対して謝罪し、賠償することを決めました。「隔離政策は憲法違反だった」との熊本地方<sup>(ウ)</sup>裁判所の判断を受けてのことでした。

そして2019年、熊本地裁は元患者の家族に対しても賠償するよう命じ、国はこれを受け入れると判断しました。この判決の中で裁判所は「差別と偏見を取り除く義務が国にある」と指摘しました。国が今後、どのように取り組むのか、注目されます。



熊本地裁の判決後、訴えを起  
こしていた元患者の家族らに  
謝罪し深々と頭を下げる安倍  
晋三内閣総理大臣（首相、右  
端）  
7月  
首相官邸で2019年

**問28** 下線部（ア）に関連して、差別を巡る現状や、差別をなくすための日本での取り組みについて、誤っている説明を次から一つ選びなさい。

- ① 自分たちと違う人種や民族、宗教などに対する憎しみや差別をあおる言動を「ヘイトスピーチ」という。
- ② アイヌ民族は明治時代から先住民族と認められ、その権利が法律で守られてきた。
- ③ 従業員の募集・採用や昇進などで、性別を理由に差別することは法律で禁じられている。
- ④ 障害者に対する「合理的配慮」とは、障害者の生活を不自由に行っている社会の側の障壁をできるだけ取り除くことだ。

**問29** 下線部（イ）の国際連合（国連）や、国連の主要機関の一つである安全保障理事会（安保理）について、正しい説明を次から一つ選びなさい。

- ① 国連の加盟国数は、世界の独立国の約半分にとどまる。
- ② 国連は戦争や紛争に関することのみを扱い、環境や人権の問題では活動していない。
- ③ 日本は安保理の常任理事国だ。
- ④ 安保理の常任理事国には「拒否権」が与えられている。

**問30** 下線部（ウ）に関連して、一般の国民が司法に参加する制度について、正しい説明を次から一つ選びなさい。

- ① 裁判員制度は民事裁判に導入されている。
- ② 裁判員は「被告（被告人）は有罪か無罪か」「どの刑罰が適切か」の両方に関わる。
- ③ 最高裁判所裁判官に対する「国民審査」で、これまで何人も裁判官が辞めさせられた。
- ④ 検察官が不起訴を決めた事件は、検察審査会がいかなる議決をしても起訴されない。


**問31** 左ページの文章の特徴として正しいものを、次から一つ選びなさい。

- ① ハンセン病について、病気のあらましを述べたうえで、元患者やその家族に対する差別を巡る歴史を、古いものから新しいものへ順番に説明している。
- ② ハンセン病に関する最新のニュースについて、まずは概要を、次にそこに至る経緯を報じている。
- ③ ハンセン病を巡る裁判をとりあげて、裁判所が出した結論を冒頭で手短かに示し、その後、結論を導くための根拠を細かく説明している。
- ④ ハンセン病の元患者やその家族が受けた差別の実態を、当事者の証言を複数挙げて生々しく伝えている。

**問32** プラスチックやプラスチックごみ（プラごみ）について、正しい説明を次から一つ選びなさい。

- ① プラスチックは、第二次世界大戦後に生産量が激増した。
- ② プラスチックは、使い捨ての品物のみ利用されている。
- ③ プラスチック製ストローを飲食店で使うことは、日本では法律で禁じられている。
- ④ プラごみは海に流れ出ると、分解されてすぐになくなる。

**問33** 絶滅の恐れがあるコツメカワウソ=写真=について、輸出入が原則として禁止されることになりました。絶滅の危機にある生き物を守るための国際取引を規制するルールで、コツメカワウソの扱いをこれまでよりも厳しくすることが決まったためです（2019年8月）。この国際ルールの通称を、次から一つ選びなさい。



- ① ラムサール条約
- ② 気候変動枠組み条約
- ③ ワシントン条約
- ④ 水俣条約

**問34** 日本では、結婚しても姓（名字）を変えたくないという声もあります。そう願う理由の例として正しいものを、次から一つ選びなさい。

- ① 夫婦の姓が違っていれば、同じ姓を名乗るよりも医療費が安くなるから。
- ② 夫婦の姓が違っていれば、子育てのために国から受け取る児童手当が高くなるから。
- ③ 結婚に伴って自分の姓を変える男性が急増し、出生数が激減したから。
- ④ 結婚により自分の姓が変わると、仕事を続けるうえで不便だから。

**問35** 2020年東京オリンピック（五輪）・パラリンピックに向けて、大会期間中の都心の混雑を和らげるために、さまざまな対策が検討されています。その一つとして国は、パソコンなどを使って、本来の職場以外の場所（自宅など）で働く【 】の普及を目指しています。【 】に当てはまる言葉を次から一つ選びなさい。

- ① ネットワーク
- ② ハローワーク
- ③ テレワーク
- ④ デスクワーク

**問36** インターネット上で発信された情報に対して、批判や中傷などのコメントが殺到することを何といいますか。正しい言葉を次から一つ選びなさい。

- ① リベンジポルノ
- ② 拡散
- ③ フィルタリング
- ④ 炎上

**問37** 受動喫煙や国内外の受動喫煙対策について、正しい説明を次から一つ選びなさい。

- ① 受動喫煙とは、人に勧められてたばこを吸うことだ。
- ② 日本では法律によって、飲食店や学校など全ての建物について、建物内は「全面禁煙」とされている。
- ③ 世界保健機関（WHO）は、日本の受動喫煙対策は世界でトップレベルの厳しさだとしている。
- ④ WHOは受動喫煙防止のため、「たばこのない五輪」を目指している。

**問38** 人の皮膚などから作られ、体のあらゆる組織になる能力を持つ細胞のことを何といいますか。正しい言葉を次から一つ選びなさい。

- ① 神経細胞                      ② 赤血球                      ③ i P S 細胞                      ④ 骨髄細胞

**問39** 日本国内の地震について正しい説明を、次から一つ選びなさい。






- ① 「防災の日」の9月1日は、かつて「関東大震災」（1923年）が起きた日だ。  
② 震度7が観測されたのは、「阪神大震災」（1995年）が唯一の例だ。  
③ 「東日本大震災」（2011年）による被害の大きさを物語る「震災遺構」は、必ず保存するよう法律で義務づけられている。  
④ 「南海トラフ巨大地震」が発生すると、北海道が最も大きな被害を受けると予測されている。

**問40** 2019年は、アメリカの「アポロ11号」が史上初めて【            】に成功してから50年という節目の年です。【            】に当てはまる文言を、次から一つ選びなさい。

- ① 有人宇宙飛行                      ② 有人月面着陸  
③ 小惑星から物質を持ち帰ること                      ④ ブラックホールの影の撮影

**問41** 世界には2540万人の難民がいます（2017年末時点）。難民や、難民に関する次の表について、正しい説明を①～④から一つ選びなさい。

▼難民の出身国上位5カ国

	シリア	630万人
	アフガニスタン	260万人
	南スーダン	240万人
	ミャンマー	120万人
	ソマリア	100万人

※2017年末時点、国連難民高等弁務官事務所（UNHCR）の資料より

- ① 難民とは、人種や宗教、政治的な考えの違いなどを理由に迫害される恐れがあるため、国外へ逃れた人のことだ。  
② 難民全体のうち、シリア出身者が約半分を占める。その大半はアメリカに逃れている。  
③ 外国から日本に逃れ、難民として認めてもらおうと申請する人は近年、減り続けている。  
④ 日本は世界1、2位を争うほど多くの難民を受け入れている。

★中学生のヒロキさんのグループは、社会科の授業で学んだことを「歴史新聞」にまとめることになりました。次の囲みは、作成途中の歴史新聞です。これを読んで問42～45に答えなさい。

## 激動の1989年 世界で何が起きたか

今から30年前の1989年は、歴史的な事件が相次いで起きた「激動の年」です。当時のできごとを学び、今日の世界を考える手がかりを探ってみましょう。

### 6月4日 「天安門事件」が発生する

(ア) <sup>ペキン</sup>中国の首都・北京で、民主化を求める学生らの運動が、軍によって武力鎮圧されました。運動の中心が天安門広場だったことから、このように呼ばれます。正確な犠牲者は不明で、数百人とも数千人とも言われます。この事件によって、中国はアメリカやヨーロッパなどの国々から激しい批判を浴びました。



民主化を訴え、天安門広場に集まった学生ら 1989年5月

### 11月9日 「ベルリンの壁」が 崩壊、する

東ベルリンと西ベルリンの間の国境が開放され、東ドイツ市民の自由な行き来が認められました。国境に沿って建てられていたコンクリートの壁は事実上、意味を失いました。「ベルリンの壁の崩壊」はこのことを象徴した表現です。

1965年  
西ベルリンから見た壁



#### ★ベルリンに壁なぜ？

ドイツはかつて、二つの国に分かれていました。もともとは一つの国でしたが、第二次世界大戦に敗れた後、戦勝国のアメリカ、【ソ連】、ソ連に占領されました。冷戦が激しくなると、ソ連が占領していた地域には東ドイツ、その他の3カ国が占領していた地域には西ドイツが成立し、ドイツは東西に分断されてしまいました。かつての首都だったベルリンは東ドイツにありましたが、ベルリンも4カ国に占領されたため、同様に東西に分かれてしまいました。

東ドイツ政府は1961年、西ベルリンを取り囲むようにして、国境沿いに壁を建設し始めました。東側の市民が、西ベルリンを経由して西側へ行くのを防ぐためでした。総延長155\*、高さ約3.6mのコンクリート製で、乗り越えようとした市民が射殺されることもありました。

それでも、自由を求めて壁を越えようとする人は後を絶ちませんでした。東ヨーロッパで民主化を求める動きが高まった1989年、東ドイツ政府はついに、国境を開放すると決めました。これにより壁は崩壊し、翌1990年の東西ドイツ統一へとつながりました。

### 12月3日 (イ) 冷戦の終結が宣言される

第二次世界大戦後、世界の国々がアメリカを中心とする西側（資本主義）陣営と、ソ連を中心とする東側（社会主義）陣営に分かれて対立した「冷戦」。アメリカのブッシュ（父）大統領＝左の写真＝と、ソ連のゴルバチョフ共産党書記長＝右の写真＝が会談し、終結が宣言されました。その後、1991年にソ連は解体し、15の独立国が生まれました。



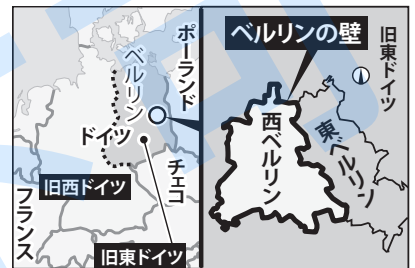
問42 下線部（ア）の中国の社会や経済について、正しい説明を次から一つ選びなさい。

- ① 漢民族だけでなく少数民族も暮らしている。
- ② 人口を増やすため、かつて「一人っ子政策」を取り入れていた。
- ③ インターネットの規制が日本より緩やかだ。
- ④ 国内総生産（GDP）は日本よりも少ない。

問43 【      】（網掛け部分の本文上から3行目）に当てはまる国名（2カ国）を、次から一つ選びなさい。

- ① イギリス、ロシア
- ② イギリス、フランス
- ③ スイス、ロシア
- ④ フランス、スイス

問44 ヒロキさんのグループは、網掛け部分の記事に添える資料を、「ベルリンの壁」の写真から、右の地図に差し替えることにしました。グループのメンバーの一人、アキコさんの提案を受けてのことです。「差し替えたほうがよい」という提案の理由として、アキコさんはどのようなことを挙げたと考えられますか。その例に当てはまるものの正しい組み合わせを、①～④から一つ選びなさい。



- A：記事の内容は、私たちや読者である同級生がまだ生まれていない時代のできごとだ。当時の状況の生々しさがより伝わる資料を選ぶべきだ。
- B：網掛け部分の記事は内容が複雑だ。読者にわかりやすく伝えるためには、情報が視覚的に整理された資料を載せる必要がある。
- C：紙面で紹介する三つのできごとのうち、他の二つには写真が添えられている。複数の種類の資料を載せることで、紙面を変化に富んだものにできる。
- D：紙面で紹介する三つのできごとそれぞれに、同じ種類の資料を載せることで、紙面を統一感のあるものにできる。

- ① AとB
- ② AとC
- ③ BとC
- ④ CとD

問45 下線部（イ）に関連して、冷戦の終結に貢献したとされる「中距離核戦力（INF）全廃条約」について、正しい説明を次から一つ選びなさい。

- ① 国連に加盟する全ての国々が結んだ条約だ。
- ② あらゆる種類の核兵器の廃絶を目指した条約だ。
- ③ アメリカとソ連の2カ国が、「保有する核兵器の数を減らす」と互いに約束した条約だ。
- ④ 核兵器の削減や廃絶を定めた唯一の条約で、同様の条約はINFのほかに例がない。

## ～ アンケートのお願い ～

今後のニュース検定（N検）をよりよいものにするため、アンケートにご協力ください。  
解答用紙のアンケート欄は問10までありますが、質問は問9までです。

問1 N検を受検したのは今回で何回目ですか。

- ① 初めて ② 2回目 ③ 3回目 ④ 4回目以上

問2 N検を何で知りましたか＝当てはまるものすべてをマークしてください。

- ① 毎日新聞の記事や広告、雑誌など（毎日小学生新聞、月刊「News がわかる」など）の広告  
② 朝日新聞の記事や広告、雑誌など（朝日小学生新聞、A E R A、週刊朝日など）の広告  
③ 公式サイトやツイッター、web広告 ④ 学校からの案内 ⑤ その他

問3 今回、受検を決めた動機は何ですか＝当てはまるものすべてをマークしてください。

- ① 時事問題への理解を深め、自分の能力を確かめたかったから。  
② 学校での学習・試験（社会科、地歴・公民科など）に役立ちそうだから。  
③ 入学試験に役立ちそうだから。 ④ 就職活動に役立ちそうだから。  
⑤ 社会人として、仕事や日常生活で役立ちそうだから。

問4 <問3で③か④を選んだかたにお聞きます> 具体的にどのような点で役立つと考えましたか＝当てはまるものすべてをマークしてください。

- ① N検の資格をA〇入試や就職活動の志願・応募書類に書けば、評価される。  
② 時事問題への理解が深まり、小論文や面接の備えになる。  
③ 大学入試センター試験や将来の共通テスト、就活の一般教養試験の備えになる。

問5 今回の受検に備えて活用したN検の公式教材はどれですか＝当てはまるものすべてをマークしてください。

- ① テキスト&問題集 入門編（5級対応） ② テキスト&問題集 基礎編（3・4級対応）  
③ テキスト 発展編（1・2・準2級対応） ④ 問題集 1・2・準2級

問6 N検受検をきっかけに、日々の生活や習慣は変わりましたか（過去に受検したことがあるかたは、その時も含めて）＝当てはまるものすべてをマークしてください。

- ① ニュースを家族や知人と話題にすることが増えた。  
② 新聞やテレビのニュースに目を通す習慣ができ、以前より分かるようになった。  
③ 社会の課題や自分の将来（職業など）を考えることが増えた。  
④ 社会のできごとや制度について、自分と異なる意見を気にかけるようになった。

問7 <過去にN検を受検したかたにお聞きます> N検の学習で得た力や資格は、何に役立ちましたか＝当てはまるものすべてをマークしてください。

- ① 学校の授業（社会科、地歴・公民科など）を以前より理解できるようになった。  
② 入学試験に役立った。 ③ 就職活動に役立った。  
④ 社会人として、仕事や日常生活で役立った。

問8 <問7で②か③を選んだかたにお聞きます> 具体的にどのような点で役立ちましたか＝当てはまるものすべてをマークしてください。

- ① N検の資格をA〇入試や就職活動の志願・応募書類に書き、評価された。  
② 時事問題への理解が深まり、小論文や面接の備えになった。  
③ 大学入試センター試験や、就活の一般教養試験の備えになった。

問9 ニュースや時事問題に関心を持ち、理解することは、選挙での投票などを通じて自分たちの生活や社会を良くしていくうえで、必要だと思いますか、思いませんか。

- ① 思う ② 思わない

ご協力ありがとうございました



※今回の45問は次の2種類で構成されます。<1>2019年度版「公式テキスト&問題集」を基にした問題(練習問題と似た問題を含む) = 基になったページを、解説の末尾に【●♯】というカッコで示しました。<2>新しく作った問題 = 普通はページ番号を記していません。ただし、テキスト&問題集で勉強していれば役に立った問題については、(①③④: ●、●♯) というカッコで示しました。「これらのページに、選択肢①③④のいずれかについて参考になる説明や問題が載っている」という意味です。

問題	正解	配点	解説
1	①	2	日本国憲法は天皇について、政治への関わりを禁じる一方、内閣の助言と承認に基づく国事行為を行うと定め、具体的に示しています。「儀式を行うこと」も挙げていて、即位礼正殿の儀はこれに該当します。憲法改正を承認するのは国民で、天皇ではありません。(①~④: 16、94♯)
2	②	2	G20は、先進国のG7に中国、インドといった新興国などを加えた集まりです。①日本でのG7サミットは、過去に6回開かれました。③国連総会は毎年、本部があるアメリカ・ニューヨークで開かれます。④大阪万博が1970年に開かれました。2025年には2度目の開催が予定されています。
3	③	2	従来の242から、2019、22年の参院選で3ずつ増えることになりました。①「30歳以上」のままです。②参院選に限らず選挙の候補者数をできる限り男女均等にしよう政党などに促す法律が2018年、施行されました。当選者が男女同数になるとは限りません。④6年のままです。【92♯】
4	①	3	「1票の格差」とは、有権者が投じる1票の価値が選挙区の間で異なることです。選ばれる議員数が同じなら、1票の価値は有権者が多い選挙区で低く、有権者が少ない選挙区で高くなるため、「法の下での平等に反する」と批判されています。【10、92♯】
5	①	2	首相は国会議員の中から国会が指名します(議院内閣制)。②衆参各議院を代表するのは議長です。③解散があるのは衆議院で、参議院にはありません。衆議院の解散は「首相の専権事項(首相がいつでも好きな時に決められる)」とされます。④正しくは「与党」です。(①~③: 10、11♯)
6	②	2	このため創設当初から「憲法9条が禁じる『戦力』に当たるのではないか」との指摘があります。①衆議院議員と同じく「全国民の代表」です。③憲法はこうした義務を国務大臣などに課す一方、国民には課していません。④明記していません。【13、14、93♯】
7	①	2	現在の制度では、皇位継承資格は男性皇族に限られています。つまり女性は天皇になれません(選択肢③)。②減る傾向にあります。④女性皇族は、民間人と結婚すると皇室から離れる決まりです。このため今後、皇族が減り、1人当たりの公務負担が重くなると心配されます。【17、94♯】
8	④	3	北方領土は、歯舞(はばまい)群島、色丹(じこたん)島、国後(くなしり)島、択捉(えとろふ)島のことで、第二次世界大戦で日本が敗北を認めた直後、ロシア(当時はソ連)が占拠を始めました。日本は返還を求めてきましたが、実現の見通しは立っていません。【19、21、95♯】
9	②	3	アメリカは1996年、「普天間飛行場を返す」と日本に約束しました。日本政府は代わりの基地を沖縄県名護(なご)市辺野古(へのこ)に造ると決め、工事を進めています。しかし、米軍基地に関連する事故や事件に苦しむ県民の間では「県外移設」を望む声も根強くあります。【20、96♯】
10	①	2	まとめて実施することで、役所の手間や費用を減らせるマ選挙ムードが高まり、投票率が上がる——と見込まれるためです。②減っています。議会の解散などで任期終了の時期がずれるためです。③近年、増える傾向にあります。④こうした事実はありません。【23、97♯】
11	③	2	地方自治体がお金を使うのは地方税で賄うのが本来のあり方ですが、全国的に見ると地方税は自治体の収入全体の3~4割程度です。①自治体が借金するために発行します。②国が使い道を指定して自治体に配ります。④収入が少ない自治体に国が配り、自治体が自由に使えます。【25、97♯】

問題	正解	配点	解説
12	③	2	デフレが長引けば、景気がどんどん悪くなって失業者が増えようと心配されます。そこで日本銀行は2013年春、デフレから抜け出すことを目指して「物価が毎年2%ずつ上がる状態を2年程度で実現する」という目標を掲げました。しかし、まだ達成されていません。【26、98♯】
13	③	2	消費税率の10%への引き上げと同時に、一部商品は8%に据え置く「軽減税率」が導入されました(2019年10月)。大半の飲食料品は軽減税率の対象ですが、酒類と外食は対象外です。日記中では、ハンバーガーとコーラ(テークアウトは対象です)、パンと野菜が8%、その他は10%です。
14	①	2	これを「個人消費」といいます。GDPはその国の経済がどれほど盛んなのかを測るものさしとされるデータで、大まかにいえば、一定期間に国内で使われたお金の総額です。日本の場合、個人消費がGDPの約6割を占めており、経済を盛んにするためのカギを握ります。【27、99、136♯】
15	④	2	2018年の訪日外国人は3119万人に上りました。国・地域別では多い順に中国(838万人)、韓国(754万人)、台湾(476万人)、香港(221万人)——で、東アジアからの旅行者が7割超を占めました。インバウンドは「外国人による日本旅行」を指す場合もあります。(①~④: 33、100、135♯)
16	②	2	政府は「攻めの農林水産業」をスローガンに掲げ、農林水産業を稼げる産業にすることを目指しています。農林水産物の輸出額は6年連続で増えていて、2018年は9068億円でした。和食の人気の海外で高まっていることなどが背景にあります。【100♯】
17	③	2	かつて円高が続いた時期に、日本の輸出企業は円高の影響をさげようと、工場を海外に移して現地で生産する方式を進めました。この結果、円安が進んで為替の面で競争力が高まって、輸出量が伸びるとは限らなくなったのです。【33、100♯】
18	②	2	核のごみをガラスに混ぜて固め、地下深い最終処分場に埋める方針です。③処分場を造る場所すら決まっていません。処分場がないまま原発政策を進めているため、「トイレなきマンション」に例えられます。④とても強い放射線を出すため、半永久的に管理する必要があります。【35、102♯】
19	②	3	バイオマス発電は資源を有効活用でき、天候にも左右されないという長所があります。一方で、燃料の運搬や管理に費用がかかるのが課題です。①地熱発電、③太陽光発電、④風力発電に、それぞれ当てはまります。これらはいずれも「再生可能エネルギー」の例です。【37、102♯】
20	②	2	日本の総人口は2008年をピークに減っています。同様に働き手も減っていて、コンビニなどさまざまな業界が人手不足に直面しています。A: 人手不足のしわ寄せがオーナーにいき、経営悪化やオーナーの過重労働を招くなど問題になっています。対策の一つとされるのが時短営業です。
21	④	2	憲法改正には、衆参各議院で総議員の3分の2以上の賛成を得て国会が発議した後、国民投票で承認を得る必要があります。①定数は衆議院が465で、参議院(問3の解説を参照)より200以上多いです。③憲法は「国の最高法規」であり、憲法に反する法律は無効です。(③④: 12、15、93♯)
22	②	2	最低賃金は年1回、改められます。2019年10月の改定後、全国で最も高い東京都は1013円になり、時給で示されるようになってから初めて1000円を突破しました。全国平均は901円。4年連続で前年度比3%以上の引き上げとなりました。最低額は790円で、東京都との差は223円になりました。

問題	正解	配点	解説
23	④	3	成人年齢を定める民法は、未成年者がローンなどの契約をする場合は保護者の同意が必要で、同意を得ない契約は取り消せる、としています。改正法(2022年4月施行)で「18歳成人」が実現すると、18、19歳はこの規定から外れるため、消費者トラブルが心配されています。【48、106頁】
24	③	2	15～49歳(世界保健機関＝WHO＝が「出産可能年齢」として)の女性について計算されます。日本ではかつて4を超えていましたが、1970年代以降は低下傾向で、2005年に最低の1.26まで下がりました。2018年は1.42でした。国の当面の目標は1.8です。【40、103頁】
25	②	2	社会保険は、みんなが収入に応じて保険料や税金を負担し合い、病気や年をとって困った時にサービスやお金を受け取る仕組みです。医療保険や年金保険、介護保険(問26を参照)が代表例です。個人などが任意で加入する民間の保険と比べて、助け合いの度合いが強いです。【45、105頁】
26	①	2	ただし40～64歳の人を利用できる場合もあります。②原則1割ですが、一定以上の所得がある人は2割または3割です(2割だった人の一部が2018年8月から3割になりました)。③40歳以上です。④要介護度に応じて異なるのは、利用できるサービスの上限額です。【43、45、105頁】
27	④	2	アメリカは2017年、パリ協定からの離脱を表明しました。2020年に離脱する見込みです。京都議定書は先進国にのみ温室効果ガスの削減義務を課し、中国は参加していません。中国の排出量が急増したのは、経済発展に伴いエネルギー消費が増えたためです。Cはロシアです。【74、77、116頁】
28	②	2	明治政府はむしろアイヌの権利を侵害する政策をとりました。①日本語では「憎悪表現」といいます。③男女雇用機会均等法により禁じられています。④障害者差別解消法は、合理的配慮をするよう、役所や企業に求めています。点字資料を用意することも、その一例です。(③④:55、137頁)
29	④	2	安保理の常任理事国はアメリカ、イギリス、フランス、ロシア、中国の5カ国(したがって日本は常任理事国ではありません＝選択肢③)で、このうち1カ国でも「反対」票を投じると、安保理は大事なことを決めることができません。①ほぼ全ての国が参加しています。【87、121頁】
30	②	2	死刑判決を言い渡す場合もあります。①「地方裁判所で開かれる重大事件の刑事裁判」に限って導入されています。③これまで一人も辞めさせられたことはありません。④検察審査会が同じ事件で「起訴すべきだ」と2回議決すると、必ず起訴されます(強制起訴)。【56、59、110頁】
31	①	2	設問の文章は、第1段落で、前提知識となるハンセン病について説明し、第2段落以降で、差別を巡る歴史を年代順に説明しています。①～④はいずれも、新聞などの「説明的文章」が用いる文章の構造です。さまざまなタイプの文章に慣れておくと、内容を理解する助けとなります。
32	①	3	2016年の世界の生産量は、1950年の約200倍に上りました。③こうした法律はありません。一部の飲食店が自主的に取り組む動きはあります。④分解されにくいので。海に漂う細かい「マイクロプラスチック」が有害物質を吸着し、生態系に悪影響を及ぼすことも心配されます。【72、116頁】
33	③	2	ワシントン条約ではこの他に、例えば印鑑などの材料となる「象牙」の国際的な取引が禁じられています。①水鳥などの生息地として重要な湿地を保護する条約、②地球温暖化対策に取り組むための条約、④水銀による環境汚染・健康被害を防ぐための条約です。(①～③:73、74頁)
34	④	3	民法に基づき、夫婦は夫か妻どちらかの姓にそろえなくてはならず、現状は妻が改姓する夫婦が大多数です。働く女性が増えたため「仕事相手に名前を覚え直してもらったりしなくてはならない」などの不都合を嫌い、結婚前の姓を使い続けたいと望む声が大きくなっています。【55、109頁】

問題	正解	配点	解説
35	③	2	情報通信技術を活用した、時間や場所にとらわれない柔軟な働き方です。仕事と子育て・介護を両立させやすくなるなどの効果が期待されています。大会期間中の混雑緩和策としては、通勤時間をラッシュ時からずらす「時差出勤」なども呼びかけられています。【51、61、111、138頁】
36	④	3	ソーシャル・ネットワーキング・サービス(SNS)などへの安易な投稿が「名誉毀損(きそん)」や「脅迫」と受けとめられ、損害賠償を請求される場合もあります。不意な内容を発信しない▽発信した情報が瞬く間に世界に広がる怖さを知る——ことが大切です。【63、112頁】
37	④	2	①他人のたばこの煙を吸うことです。②改正健康増進法が2019年7月、一部施行され、病院や学校は「屋内全面禁煙」とされました。2020年4月には全面施行され、飲食店も「屋内禁煙」とされますが、一部店舗では喫煙が認められます。③「対策は不十分だ」と指摘されてきました。【64、113頁】
38	③	3	正式名称は人工多能性幹細胞。目や心臓などの病気の治療に生かすための研究が進んでいます。山中伸弥・京都大学教授らが2007年、世界で初めて人の細胞からiPS細胞を作ることになり、山中教授はその功績により2012年のノーベル医学生理学賞を受賞しました。【67、113、134頁】
39	①	2	②東日本大震災などでも観測されました。③こうした法律はありません。震災の記憶を風化させないために保存が決まったものがある一方、維持費や被災者の心情などを考慮して解体されたものもあります。④中部地方から九州地方にかけての太平洋側で、大きな被害が予測されています。
40	②	2	アメリカの宇宙船アポロ11号は1969年7月20日、月面に着陸し、アームストロング船長が人類で初めて月に降り立ちました。①ソ連のガガーリン少佐が1961年に、③日本の探査機「はやぶさ」が2010年に、成功しました。④日本を含む国際チームが「成功した」と2019年に発表しました。
41	①	2	②表から「約4分の1」です。多くが隣国トルコに逃れています。③近年急増していました。ただし、2018年は前年よりほぼ半減して約1万人でした。認定申請中の就労を国が制限したことが背景です。④2018年の難民認定は42人で、主要国の中で最低水準です。【54、81、119頁】
42	①	3	②人口が増えないように、子どもの数を制限していました(2016年廃止)。③日本よりもネットの規制が厳しいです。「国の安定のためには自由や人権が制限されることは仕方がない」と政府は考えています。④GDPは日本よりも多く、アメリカに次いで世界第2位です。【79、118頁】
43	②	2	網掛け部分の記事を読むと、空欄に当てはまる2カ国は▽第二次世界大戦の戦勝国だ▽冷戦期にはアメリカと同じ陣営に属していた——の両条件を満たす、と考えることができます。これより、正解は②だと導けます。ロシアはかつてのソ連です。スイスは永世中立国です。(②:118頁)
44	③	2	地図と写真という2種類の資料について、それぞれの長所を比較、検討する問題です。地図も写真も、受け手の視覚に訴えて情報を伝える点では共通していますが、地図は地理的情報をわかりやすく伝えることに、写真は現場の状況を、臨場感をもって伝えることに、それぞれ向いています。
45	③	2	INF全廃条約は1987年、アメリカとソ連が2国間で結びました。核兵器のうち「地上から発射して500～5500*。先まで届くミサイル」について全て廃棄すると定め、開発・実験・保有も禁じました。冷戦終結を導く画期的な条約でしたが、2019年8月に失効しました。(①～③:84、120頁)